

DIAGNOS RP3

Namn _____ Klass _____

1 a) Skriv andelen $\frac{43}{100}$ som procent _____ %

b) Skriv andelen $\frac{3}{10}$ som procent _____ %

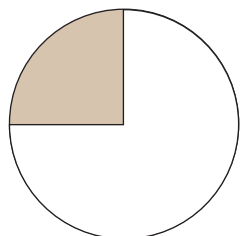
2 a) Skriv andelen $\frac{1}{5}$ som procent _____ %

b) Skriv andelen $\frac{1}{20}$ som procent _____ %

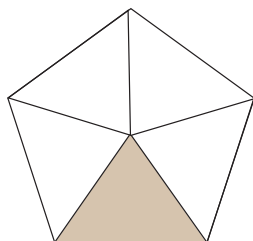
3 a) Skriv andelen 35 % som hundradelar $\frac{\quad}{100}$

b) Skriv andelen 40 % som tiondelar $\frac{\quad}{10}$


4 Hur många procent av figurerna är skuggade?



a) _____ %



b) _____ %



c) _____ %

5 Hur mycket är:

a) 5 % av 160 kr? _____

b) 25 % av 480 kr? _____

c) 20 % av 40 kr? _____